

ТЕСТ ЗА IV КЛАС
ПО ЧОВЕКЪТ И ПРИРОДАТА

12 май 2014 г.

1. Кое вещество се разтваря във вода?

- А) сол
- Б) олио
- В) пясък

2. В коя група са включени само живи организми?

- А) здравец, къртица, тръстика
- Б) бреза, пясък, природен газ
- В) печурка, прилеп, въглища

3. Сухоземна среда на живот обитават:

- А) крокодил, делфин, врабче
- Б) дива патица, пеликан, шаран
- В) прилеп, сърна, катерица

4. Перките са приспособления на рибите за:

- А) дишане
- Б) хранене
- В) движение

5. Представители на коя група растения са *синчецът, лайката и минзухарът*?

- А) дървета
- Б) храсти
- В) тревисти растения

6. В коя група са изброени само бозайници?

- А) лисица, пингвин, лалугер
- Б) прилеп, делфин, мишка
- В) акула, прилеп, слон

7. Чрез кой жизнен процес организмите създават себеподобни?


- А) дишане
- Б) хранене
- В) размножаване

8. Кой от предметите използва енергията на вятъра за задвижването си?

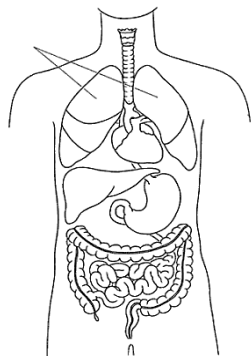
- А) велосипед
- Б) хвърчило
- В) самолет

9. С коя цифра на схемата е означен процесът на преминаване на водата от течно в твърдо състояние?

- А) 1
- Б) 2
- В) 3



10. Каква работа извършва посоченият орган?



- А) управлява всички органи и цялото тяло
- Б) участва в дишането на организма
- В) осигурява движението на кръвта в тялото

11. Кой е правилният път на храната?

- А) уста → хранопровод → стомах → черва
- Б) уста → трахея → стомах → черва
- В) уста → хранопровод → черва → стомах

12. Консумацията на кои храни трябва да избягваме, за да се храним здравословно?

- А) мляко, плодове, яйца
- Б) сладки, пържени и мазни храни
- В) варива, зеленчуци, риба

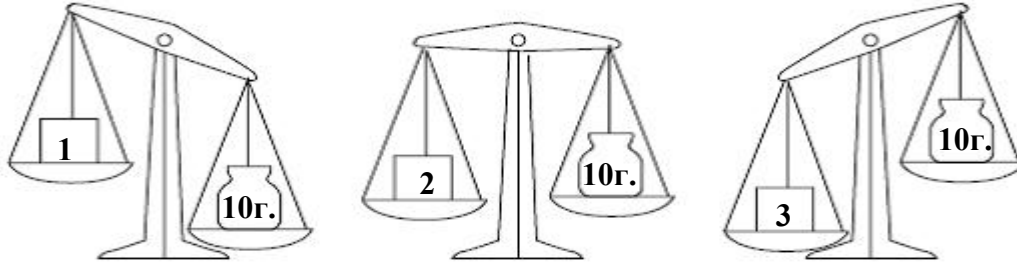
13. Коя дейност на човека НЕ нарушава равновесието в природата?

- А) изсичането на гори
- Б) изграждането на пътища
- В) използването на слънчева енергия

14. Кой отпадък ще изгние най-бързо?

- А) обелка от ябълка
- Б) пластмасова чаша
- В) стъклена бутилка

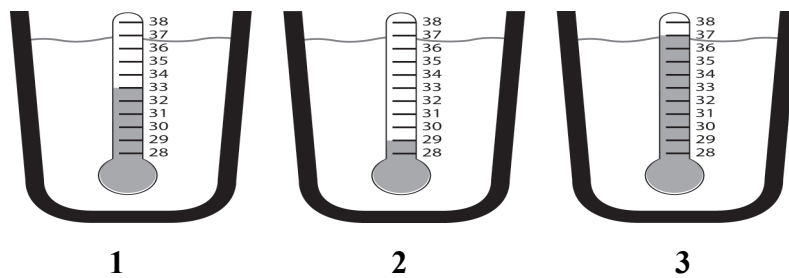
15. Кое кубче е с най-малка маса?



- А) 1
- Б) 2
- В) 3


16. В кой съд водата е най-топла?

- А) третият
- Б) вторият
- В) първият

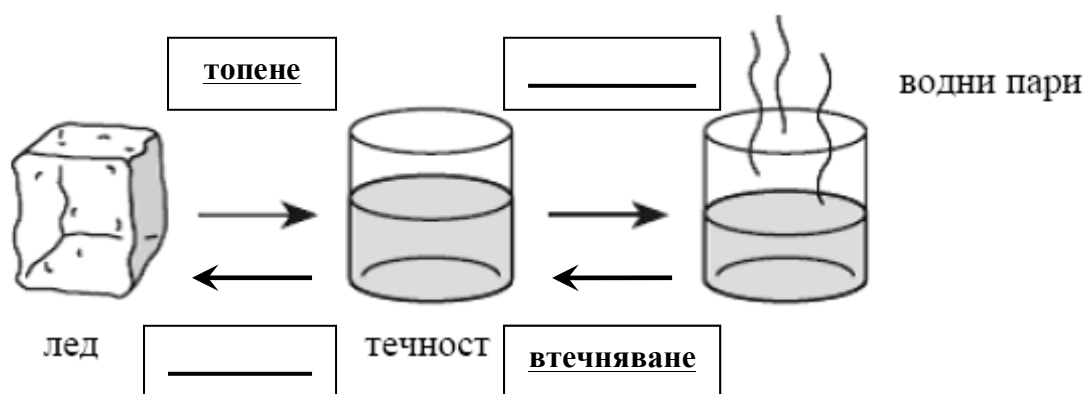


17. През кой сезон у нас денят е най-къс?

18. Определи движението, което извършва скиорът, според оставените на пистата следи? _____



19. Допълни липсващите процеси в схемата.



МИНИСТЕРСТВО НА ОБРАЗОВАНИЕТО И НАУКАТА
Център за контрол и оценка на качеството на училищното образование

ТЕСТ ЗА IV КЛАС
ПО ЧОВЕКЪТ И ПРИРОДАТА

12 май 2014 г.

КЛЮЧ С ВЕРНИТЕ ОТГОВОРИ

<i>Въпрос №</i>	<i>Верен отговор</i>	<i>Брой точки</i>
1.	А	1 т.
2.	А	1 т.
3.	В	1 т.
4.	В	1 т.
5.	В	1 т.
6.	Б	1 т.
7.	В	1 т.
8.	Б	1 т.
9.	В	1 т.
10.	Б	1 т.
11.	А	1 т.
12.	Б	1 т.
13.	В	1 т.
14.	А	1 т.
15.	А	1 т.
16.	А	1 т.
17.	през зимата	1 т.
18.	криволинейно	1 т.
19.	изпарение; замръзване	2 т.